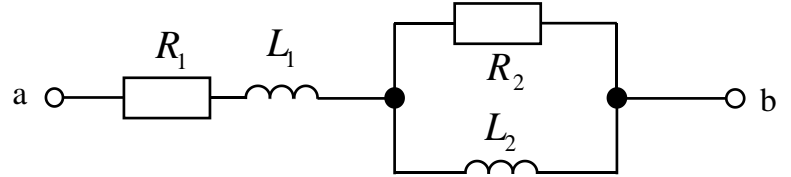


学籍番号

氏名

10.1 下図のような回路がある。この回路の端子 a-b 間のインピーダンスを  $\dot{Z} = R + jX$  の形になるように式で表せ。

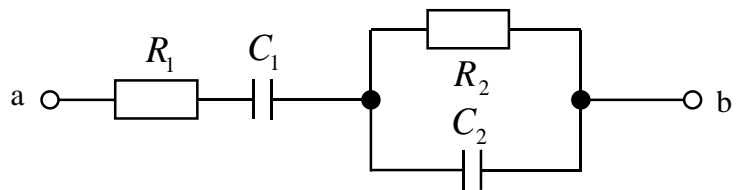
※計算の課程を書くこと。(25 点)



$$\begin{aligned} \dot{Z} &= R_1 + j\omega L_1 + \frac{1}{\frac{1}{R_2} + \frac{1}{j\omega L_2}} = R_1 + j\omega L_1 + \frac{\frac{1}{R_2} + j\frac{1}{\omega L_2}}{\left(\frac{1}{R_2} - j\frac{1}{\omega L_2}\right)\left(\frac{1}{R_2} + j\frac{1}{\omega L_2}\right)} \\ &= R_1 + j\omega L_1 + \frac{\frac{1}{R_2} + j\frac{1}{\omega L_2}}{\left(\frac{1}{R_2}\right)^2 + \left(\frac{1}{\omega L_2}\right)^2} = R_1 + j\omega L_1 + \frac{\frac{1}{R_2}}{\left(\frac{1}{R_2}\right)^2 + \left(\frac{1}{\omega L_2}\right)^2} + j\frac{\frac{1}{\omega L_2}}{\left(\frac{1}{R_2}\right)^2 + \left(\frac{1}{\omega L_2}\right)^2} \\ &= \left\{ R_1 + \frac{\frac{1}{R_2}}{\left(\frac{1}{R_2}\right)^2 + \left(\frac{1}{\omega L_2}\right)^2} \right\} + j \left\{ \omega L_1 + \frac{\frac{1}{\omega L_2}}{\left(\frac{1}{R_2}\right)^2 + \left(\frac{1}{\omega L_2}\right)^2} \right\} \end{aligned}$$

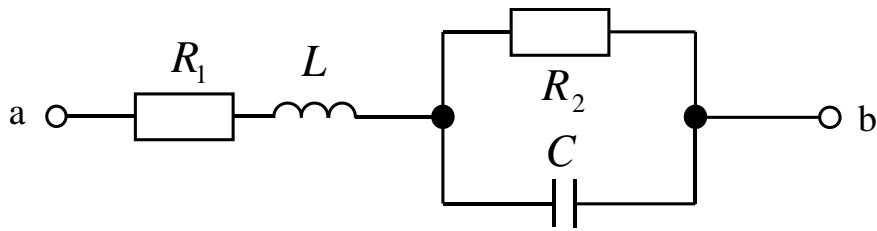
10.2 下図のような回路がある。この回路の端子 a-b 間のインピーダンスを  $\dot{Z} = R + jX$  の形になるように式で表せ。

※計算の課程を書くこと。(25 点)



$$\begin{aligned} \dot{Z} &= R_1 - j\frac{1}{\omega C_1} + \frac{1}{\frac{1}{R_2} + j\omega C_2} = R_1 - j\frac{1}{\omega C_1} + \frac{\frac{1}{R_2} - j\omega C_2}{\left(\frac{1}{R_2} + j\omega C_2\right)\left(\frac{1}{R_2} - j\omega C_2\right)} \\ &= R_1 - j\frac{1}{\omega C_1} + \frac{\frac{1}{R_2} - j\omega C_2}{\left(\frac{1}{R_2}\right)^2 + (\omega C_2)^2} = R_1 - j\frac{1}{\omega C_1} + \frac{\frac{1}{R_2}}{\left(\frac{1}{R_2}\right)^2 + (\omega C_2)^2} - j\frac{\omega C_2}{\left(\frac{1}{R_2}\right)^2 + (\omega C_2)^2} \\ &= \left\{ R_1 + \frac{\frac{1}{R_2}}{\left(\frac{1}{R_2}\right)^2 + (\omega C_2)^2} \right\} - j \left\{ \frac{1}{\omega C_1} + \frac{\omega C_2}{\left(\frac{1}{R_2}\right)^2 + (\omega C_2)^2} \right\} \end{aligned}$$

10.3 下図のような回路がある。以下の問いに答えよ。(各 25 点, 計 50 点)



- (1) この回路の端子 a-b 間のインピーダンスを  $\dot{Z} = R + jX$  の形になるように式で表せ。※計算の課程を書くこと。

$$\begin{aligned} \dot{Z} &= R_1 + j\omega L + \frac{1}{\frac{1}{R_2} + j\omega C} = R_1 + j\omega L + \frac{\frac{1}{R_2} - j\omega C}{\left(\frac{1}{R_2} + j\omega C\right)\left(\frac{1}{R_2} - j\omega C\right)} \\ &= R_1 + j\omega L + \frac{\frac{1}{R_2} - j\omega C}{\left(\frac{1}{R_2}\right)^2 + (\omega C)^2} = R_1 + j\omega L + \frac{\frac{1}{R_2}}{\left(\frac{1}{R_2}\right)^2 + (\omega C)^2} - j \frac{\omega C}{\left(\frac{1}{R_2}\right)^2 + (\omega C)^2} \\ &= \left\{ R_1 + \frac{\frac{1}{R_2}}{\left(\frac{1}{R_2}\right)^2 + (\omega C)^2} \right\} + j \left\{ \omega L - \frac{\omega C}{\left(\frac{1}{R_2}\right)^2 + (\omega C)^2} \right\} \end{aligned}$$

- (2) (1)におけるリアクタンス成分  $X$  がゼロになるには、角周波数  $\omega$  がいくらであればよいか。ただし、 $\omega > 0$  とする。

$$\begin{aligned} \omega L - \frac{\omega C}{\left(\frac{1}{R_2}\right)^2 + (\omega C)^2} = 0 &\Rightarrow L = \frac{C}{\left(\frac{1}{R_2}\right)^2 + (\omega C)^2} \\ \left(\frac{1}{R_2}\right)^2 + (\omega C)^2 = \frac{C}{L} &\Rightarrow (\omega C)^2 = \frac{C}{L} - \frac{1}{R_2^2} = \frac{CR_2^2 - L}{LR_2^2} \\ \therefore \omega^2 = \frac{CR_2^2 - L}{LR_2^2 C^2} = \frac{1}{LC} - \frac{1}{R_2^2 C^2} &\Rightarrow \therefore \omega = \sqrt{\frac{1}{LC} - \frac{1}{R_2^2 C^2}} \end{aligned}$$